

CLASS XII
GEOGRAPHY (Theory)
Sample Question Paper

Time: 3 hrs.

Max. Marks: 70

General instructions:

1. There are 26 questions in all.
कुल मिलाकर 26 प्रश्न हैं।
2. All questions are compulsory.
सभी प्रश्नों का उत्तर अनिवार्य है।
3. Marks for each question are indicated against it.
प्रत्येक प्रश्न के अंक उसके सामने अंकित हैं।
4. Question numbers 1 to 10 are very short answer questions carrying 1 mark each. One question out of these is a value based question. Answer to each of these questions should not exceed 20 words.
प्रश्न संख्या 1 से 10 अति लघु उत्तर वाले प्रश्न हैं। इनमें से एक प्रश्न मूल्य-आधारित प्रश्न है। प्रत्येक प्रश्न का एक अंक है। इनका उत्तर अधिकतम 20 शब्दों में दीजिए।
5. Question numbers 11 to 20 are short answer question carrying 3 marks each. Out of which Q No. 20 is a value based question. Answer to each of these questions should not exceed 80 words.
प्रश्न संख्या 11 से 20 लघु उत्तर वाले प्रश्न हैं। इनमें से एक प्रश्न मूल्य-आधारित है। प्रत्येक प्रश्न के 3 अंक हैं। इनका उत्तर अधिकतम 80 शब्दों में दीजिए।
6. Question numbers 21 to 25 are long answer questions of 5 marks each. Answer to each of these questions should not exceed 150 words.
प्रश्न संख्या 21-25 दीर्घ उत्तर वाले प्रश्न हैं। प्रत्येक प्रश्न के 5 अंक हैं। इनका उत्तर अधिकतम 150 शब्दों में दीजिए।
7. Question no. 26 is related to identification of the places on the World Map and locating and labelling of geographical features of India on maps.
प्रश्न संख्या 26 मानचित्र से संबंधित है। यह विश्व के मानचित्र पर दर्शाए गए स्थानों को पहचानने तथा भारत के मानचित्र पर स्थानों को अंकित एवं नामांकित करने से संबंधित है।
8. Outline maps of the **World** and **India** provided to you must be attached within your answer book.
विश्व तथा भारत के दिए गए मानचित्रों को उत्तर-पुस्तिका के साथ संलग्न करना अनिवार्य है।
9. Use of templates or stencils for drawing outline maps is allowed.
रेखीय मानचित्र बनाने के लिए खांचे अथवा स्टैंसिलों का प्रयोग करने की अनुमति है।

1. Give brief meaning of "Naturalisation of Human" and "Humanisation of Nature". 1 mark

"मानव का प्रभुकीकरण और प्रकृति का मानवीकरण." इस वाक्य के अर्थ लिखीये।

2. Write any one positive and negative impact of population change. 1 mark

जनसंख्य का वृद्धि से होनेवाला एक सकार और नकार इम्पाक्ट लिखीये।

3. What, according to Dr. Mahbub-ul-Haq, is the definition of development? 1 mark

"मानव विकास", विद्वान डॉ. महबूब-उल-हक द्वारा क्या है?

4. Name the factors which controls the development of inland waterways. 1 mark

आंतरिक जलमार्ग को नियंत्रण करनेवाले कारकों को लिखीये।

5. List out the factors that have contributed to slowing the growth rate of population of India. 1 mark

जनसंख्या की वृद्धि दर भारत में तोड़ा कम होने के कारकों को बतयिये.

6. Note any two use of common property resources. 1 mark

संसाधनों के दो उपयोग बतयिये.

7. Classify the Indian towns on the basis of their evolution in different period with

one example each.

1 mark

विभिन्न युगों में अनेक विकास के आधार पर भारतीय नगरों को कितना प्रकार वर्गीकृत किया है उदाहरण के साथ उत्तर दीजिये।

8. What is the total length of present railway line of India and how many railway zones functioning in India? 1 mark

भारत में वर्तमान में कुल रेल मार्ग की लंबाई कितना है? और भारत में रेल मंडल कितना है?

9. What is the estimated percentage of polluted water in India? Name the two most polluted rivers in India. 1 mark

भारत में अनुमानतः कितना प्रतिशत पानी का भाग प्रदूषित है और भारत की दो प्रमुख प्रदूषित नदियाँ बतायिये।

10. Why did manufacturing decline in advanced economies? 1 mark

उन्नत अर्थव्यवस्थाओं में विनिर्माण क्या हास हुआ?

11. Write the sub branch of human geography with examples. 1 mark

मानव भूगोल का उपशाखों के उदाहरण के साथ लिखिये.

12. Discuss any three general impact of population change. 1 mark

जनसंख्या का वृद्धि से होनेवाला सामान्य सकार के बारे में विचार कीजिये.

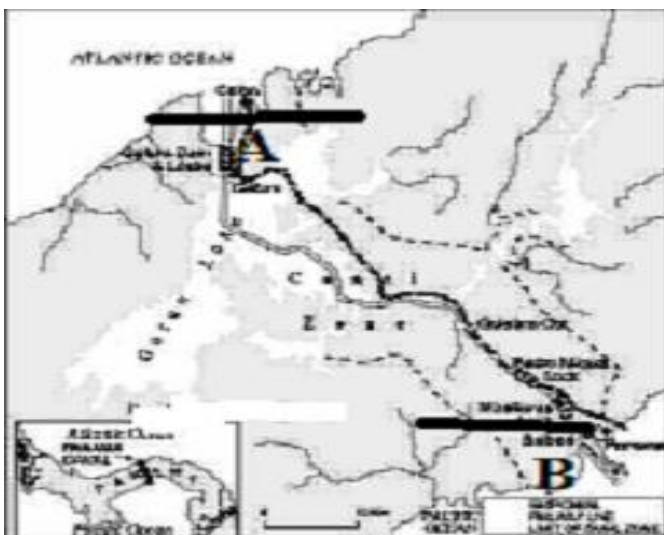
13. Discuss about the measures to overcome the urban transport problems. 1 mks.

नगरी परिवहन समस्याओं को कम करनेवाले कार्यों के बारे में विचार दालिये.

14. Study the following map showing a shipping canal and answer the following questions.

3 marks

निम्न लिखित मानचित्र में दिए गए नहर जलमार्ग का अध्ययन कीजिये तथा नीचे दिए प्रश्नों के उत्तर दीजिए।



14.1 Name the shipping canal shown in the map.
मान्चित्र में दिए गए नहर क नाम लिखिये.

14.2 Name the country which has constructed the canal.

किस देश ने इस्क निर्माण किय है?

14.3 Name the terminal ports of this shipping canal shown in a and b.

(अ) और (ब) से दिखए गए पतन क नाम लिखिये.

15. Study the following pie-diagrams and answer the following questions. 3 marks

निम्नलिखित बार अरेख का अध्यापन किजिए और निम्नलिखित प्रश्नों के उत्तर दीजिए।

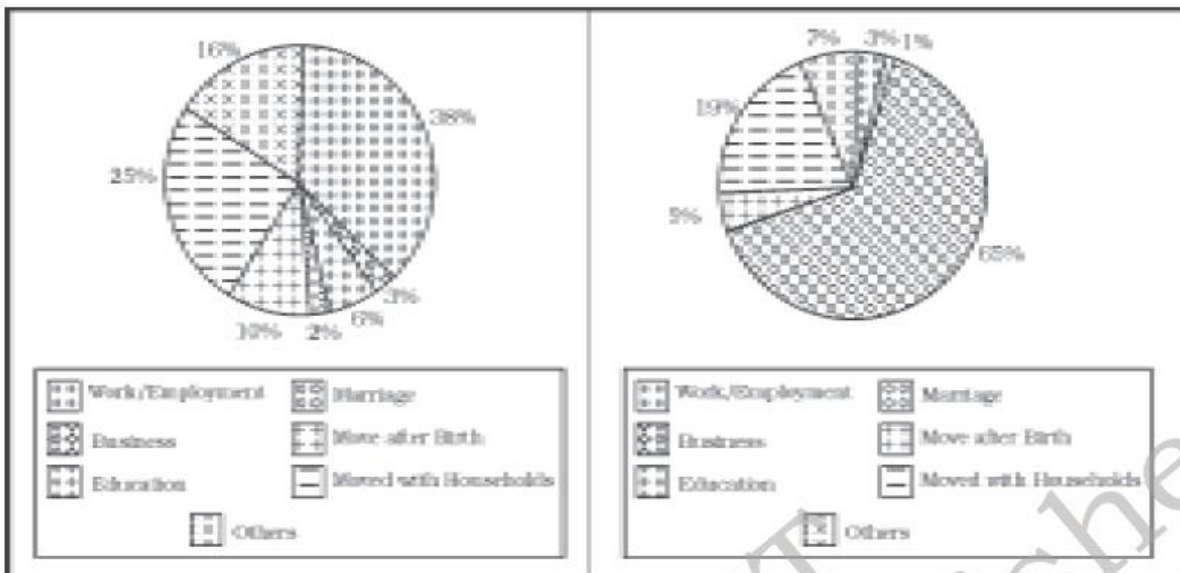


Fig. 2.2 a : Reasons for Male Migration by Last Residence with Duration (0-9 years), India, 2001

Fig. 2.2 b : Reasons for Female Migration by last Residence with Duration (0-9 years), India, 2001

15.1 What reason made male and female migration highest shown in the diagram 2.2a and 2.2b?

जो कारण बताइए, पुरुश और स्त्री प्रवास को ज्यादा किया २.२(अ) और २.२(ब) चित्र में.

15.2 Which sector showed zero % migration of female population as per diagram 2.2b?

जो कारण लिखिये, चित्र २.२(ब) के अनुसार शून्य स्त्री प्रवास किस विभाग में हुआ.

15.3 Which sector of migration of female and male showed exactly 1:2 ratio from diagram 2.2a and 2.2b.

स्त्री प्रवास तथा पुरुष प्रवास किस विभाग क अन्तर् १:२ प्रतिशत है?

16. Study the given table/map and answer the following questions.

नीचे दिए गए मान्चित्र क अद्यापन कर निम्नलिखित प्रश्नों के उत्तर दीजिये.

Table 6.1 : Basinwise Ground water Potential and Utilisation in India (Cubic Km/Year)

S. No.	Name of Basin Ground Water Resources	Total Replenishable Utilisation (%)	Level of Groundwater
1.	Brahmani with Baitarni	4.05	8.45
2.	Brahmaputra	26.55	3.37
3.	Chambal Composite	7.19	40.09
4.	Kaveri	12.3	55.33
5.	Ganga	170.99	33.52
6.	Godavari	40.65	19.53
7.	Indus	26.49	77.71
8.	Krishna	26.41	30.39
9.	Kuchchh and Saurashtra including river Luni	11.23	51.14
10.	Chennai and South Tamil Nadu	18.22	57.68
11.	Mahanadi	16.46	6.95
12.	Meghna (Barak & Others)	8.52	3.94
13.	Narmada	10.83	21.74
14.	Northeast Composite	18.84	17.2
15.	Pennar	4.93	36.6
16.	Subarnrekha	1.82	9.57
17.	Tapi	8.27	33.05
18.	Western Ghat	17.69	22.88
	Total	431.42	31.97

16.1 Which river basin has the highest total replenishable ground water source?

किस नदी बेसिन का कुल पुनः पूर्योग्य भौम जल संसाधन सबसे अधिक है?

16.2 In which river basin is the level of ground water utilization is the lowest?

किस नदी बेसिन में भौम जल उपयोग सबसे कम है?

16.3 In which river basin is the level of ground water utilization is the highest?

जिस नदी बेसिन में भौम जल उपयोग सबसे अधिक है?

17. Why does international trade exist? Give any three relevant reasons.

अंतरराष्ट्रीय व्यापार अस्तित्व मे क्यों है? कोइ तीन कारण लिखिए।

18. What is the raw material base for the petro-chemical industry?

Name any four products of this industry.

पेट्रो रासायनिक उद्योग के लिए कच्चा माल क्या है? इस उद्योग के कोई चार उत्पादों के नाम बताइए।

19. Write three points to stress the importance of knowledge based industry.

ज्ञान आधारित उद्योग के महत्व के तीन बिन्दु दीजिए।

20. When you fall ill, you go to your family doctor or you call a doctor. Sometimes your parents take you to a hospital for treatment. While in school, you are taught by your teacher. In the event of any dispute, legal opinion is obtained from a lawyer. Likewise there are many professionals who provide their services against payments in various fields such as health care, education, law, governance, recreation etc. which require professional skills. These services require other theoretical knowledge and practical training. (SOURCE: NCERT: Fundamentals of Human Geography, Part I, P.55)

Marks 3

२०. जब आप बीमार पड़ते हैं, आप किसी डाक्टर को बुलाए हैं अथवा आप पारिवारिक डाक्टर के पास जाते हैं। कभी कभी आपके माता-पिता उपचार के लिए आपकी आस्पताल ले जाते हैं। विद्यालय में आपको अध्यापक पढ़ाते हैं। किसी भी विवाद की स्थिति में कानूनी राय वकील से ली जाती है। इसी प्रकार अनेक व्यवसायी होते हैं जो फीस का भुगतान होने पर अपनी सेवाएँ प्रदान करते हैं। अतः सभी प्रकार की सेवाएँ विशिष्ट कलएँ होती हैं जो भुगतान के बदले प्राप्त होती हैं। स्वास्थ्य, शिक्षा, विधि, प्रशासन और मनोरंजन इत्यादि को व्यवसायिक कुशलता की आवश्यकता होती है। और इन्हें पूर्ण व्यवसायिक बनाते हैं।

20.1 "Healthy and educated children are backbone of country's economic growth and development." Justify in your own words and ideas.

"स्वास्थ्य और शिक्षित बच्चे देश का आर्थिक प्रगती की मेरुदंड है." इस वाक्य को आपके द्वारा विचार कीजिए।

20.2 What kind of values students should follow and develop during their studies and thereafter?

विद्यार्थी अपने शिक्षा और आगे समय किस प्रकार का गुण को अपनाना चाहिए।

21. Describe any five salient features of rice and cotton cultivation practised in the world keeping the following given points in view. 5 marks

निम्न लिखित शीर्षकों को ध्यान में रखते हुए विश्व में चावल और कापास कृषि की विशेषताओं का वर्णन कीजिए।

	Rice	चावल	Cotton	कापास
1.	Season	ऋतु		
2.	Relief	उच्चावच		
3.	Temperature	तापमान		
4.	Rain	वर्षा		
5.	Soil	मृदा		
6.	Labour	श्रम		
7.	Distribution	वितरण		
8.	Production	उत्पादन		

22. Discuss any five characteristics of modern large scale manufacturing industries. 5 marks

आधुनिक बड़े पैमाने पर होने वाले विनिर्माण की पाँच विशेषताओं को विचार कीजिए।

23. Classify the Indian cities and towns on the basis of their functions. 5 marks

भारत के नगरों का प्रकारात्मक वर्गीकरण कीजिए।

24. Explain any five important factors contributing to agriculture sector after the implementation of green revolution. 5 marks

भारत में कृषि विकास में हरित क्रांति के कोई पाँच महत्वपूर्ण योगदान बताइए।

25. Discuss the factors affecting road transport in India. 5 marks

भारत में सड़कों के विकास में प्रभावित करने वाले कारण लिखिए।

26. 26.1 In the given political outline map of the world, the following four features are shown.

दिया गया संसार का राजनीतिक रेखा मानचित्र पर निम्नलिखित चार लक्षण देखिए

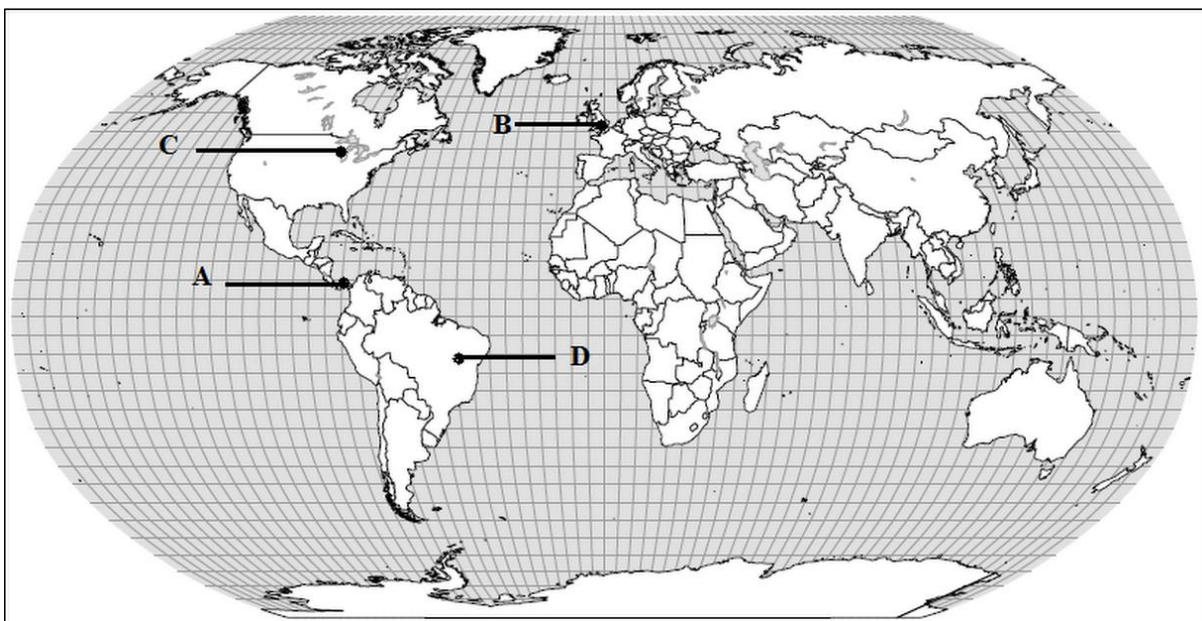
2 marks

- A. Man made canal of the world. विश्व का द्वितीय मानव निर्मित नहर
- B. A mega city of Europe. यूरोप देश का मेघा नगर
- C. A major airport of U.S.A. उत्तर अमेरिका का एक मुख्य हवाई पत्तन
- D. A country famous for coffee plantation in the world.

विश्व में काफ़ी उत्पादन का एक प्रसिद्ध देश

Identify these features and write their correct names on the line marked against each features.

इन लक्षणों की पहचान कीजिए और प्रत्येक लक्षण के सामने खींची गई रेखा पर उस्का सही नाम लिखिए।



26.2 Locate and label the following on the given political outline map of India.

दिया गया भारत का राजनीतिक रेखा मानचित्र पर निम्नलिखित लक्षण दिकयिए.

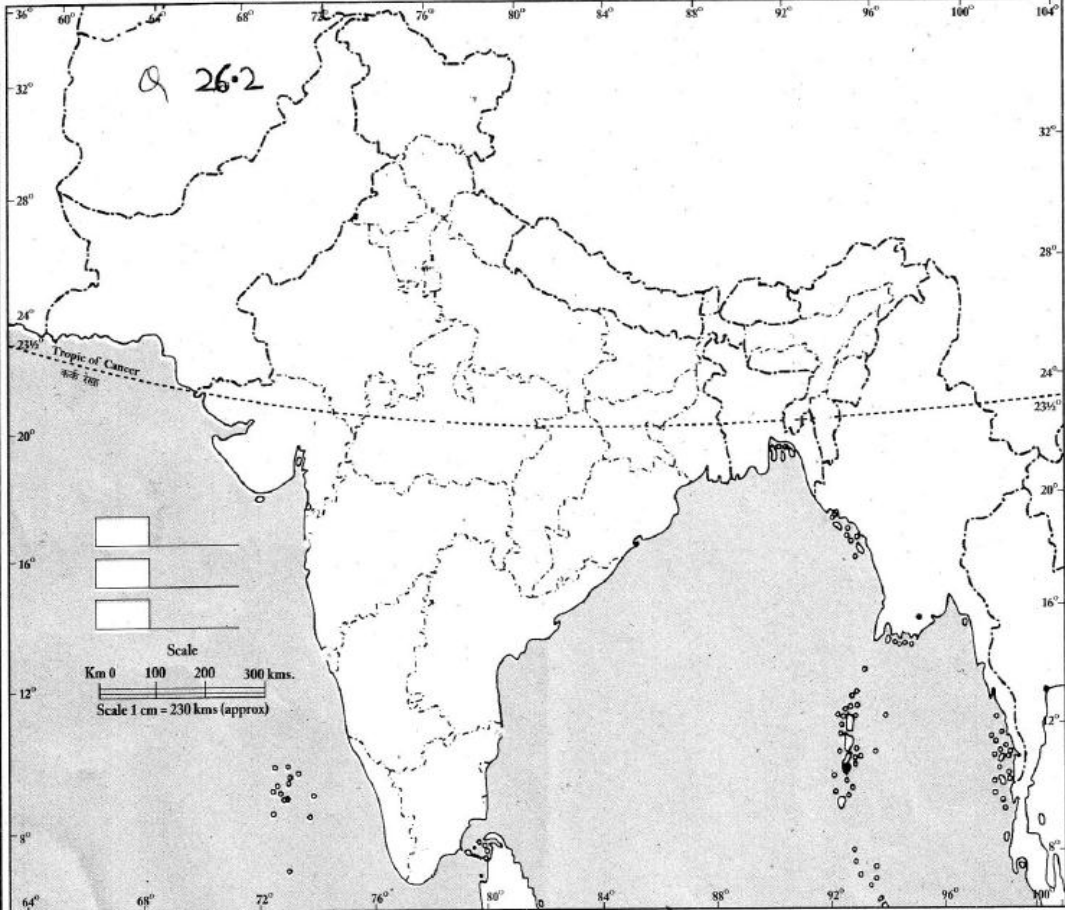
3 marks

- Oil refinery in U.P. state.
उत्तर प्रदेश राज्य का एक मुख्य तेल शोधक कारखाना।
- Atomic power station in Karnataka state.
कर्नाटक राज्य का परमाणु उर्जा केंद्र।
- Telugu speaking state.

जो राज्य जिस्मे तेलुगु भाषा बोली जाती है।

भारत-राजनैतिक और पड़ोसी देश

INDIA-POLITICAL AND ADJACENT COUNTRIES



1. The territorial waters of India extend into the sea to a distance of twelve nautical miles measured from the appropriate baseline.
 2. The interstate boundaries amongst Arunachal Pradesh, Assam and Meghalaya shown on this map are as interpreted from the "North-Eastern Areas (Reorganisation) Act, 1971," but have yet to be verified.
 3. The External Boundary and coast-line of India shown on this map agree with the Record/Master copy certified by the survey of India, Dacca Don, vide their letter No. TB 88/62-A-1/A-2 dated 15-03-2010.
 4. The responsibility for the correctness of intercard details rests with the publisher.
 5. The administrative headquarters of Chandigarh, Haryana and Punjab are at Chandigarh.
 6. The interstate boundaries between Uttar Pradesh and Uttarakhand, Bihar & Jharkhand, Madhya Pradesh & Chhattisgarh have not been verified as yet.

© Government of India copyright, 2010
 Published by
 S. K. Publications
 Educational Publishers
 A-6, Mayapuri, Phase I, New Delhi